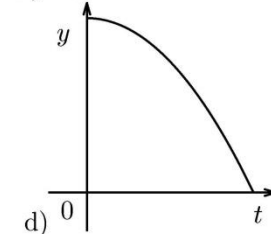
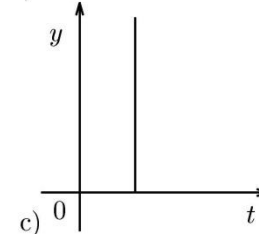
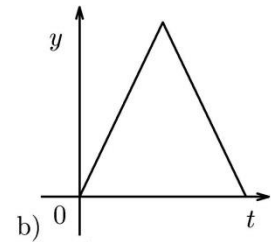
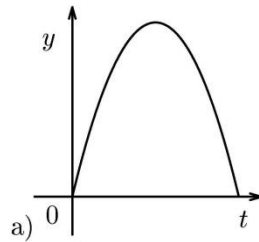


Který graf – závislost y -ové souřadnice na čase – z vpravo uvedených možností charakterizuje

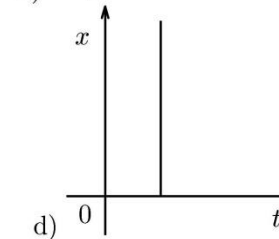
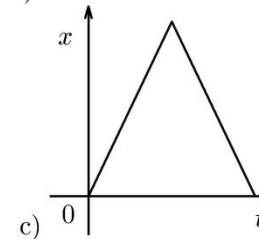
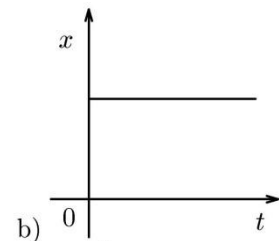
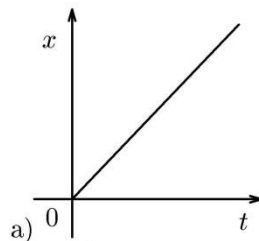
- a) vrh míče svisle vzhůru
- b) vodorovný vrh míče z rozhledny
- c) vrh míče šikmo vzhůru

+ y -ové souřadnice míří svisle vzhůru



Řešte podobnou úlohu, tentokrát však pro závislost x -ové souřadnice.

+ x -ové souřadnice míří doprava



Zdroj úloh:
 Gřondilová M. Diplomová práce. MFF UK, Praha 2004.