

M-2

Jméno a příjmení

holka nebo kluk*

Třída

Datum

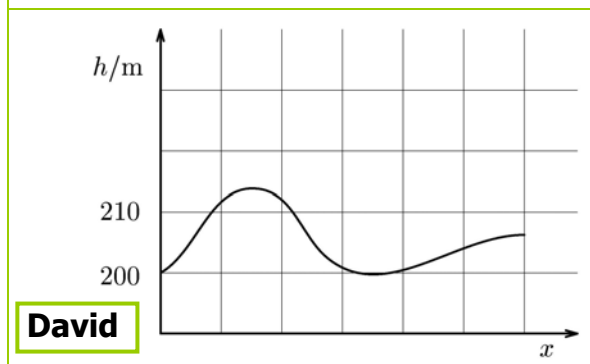
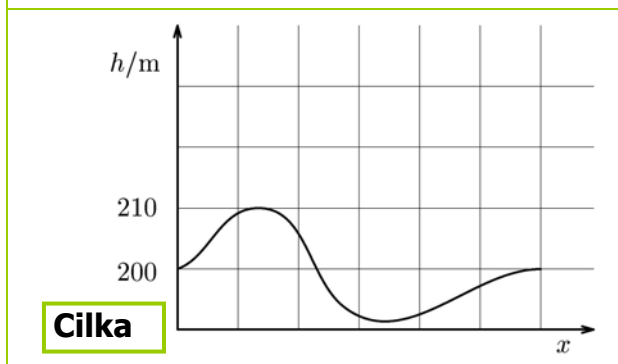
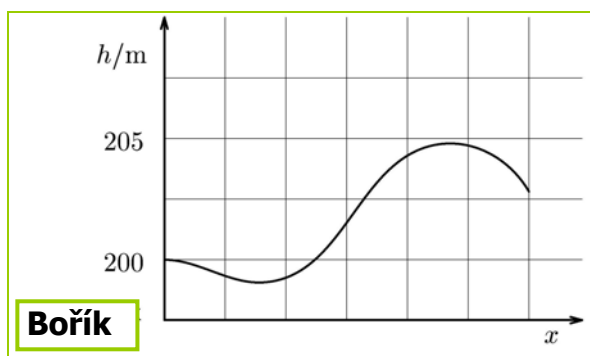
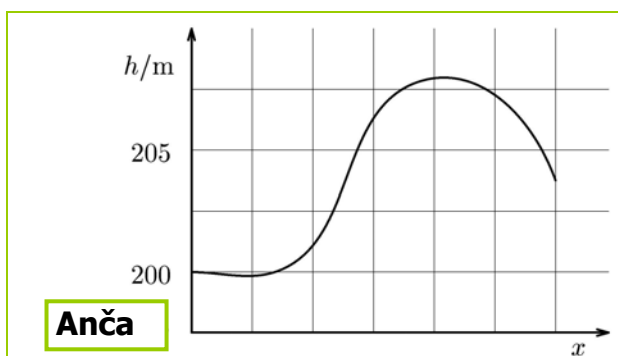
Škola

* Vybrané pohlaví zakroužkujte!

Čtyři sourozenci Nezbední si vyšli v sobotu odpoledne za zábavou.

- ✓ Anča se vydala na drby ke kamarádce.
- ✓ Bořík šel na odvetný zápas na tenisové kurty.
- ✓ Cilka šla lovit hezké chlapce na koupaliště.
- ✓ Už zletilý David zamířil uhasit žízeň do hospody.

Výškové profily jejich tras jsou uvedeny níže.



1. Který ze sourozenců dosáhl během trasy největší nadmořské výšky?

Jméno

Návodný a kontrolní úkol č. 1

Pro každého sourozence odhadněte hodnotu největší n.v., kterou dosáhl.

Vyberte a přiřaďte (spojte šipkami) z nabízených možností.

méně než 205 m

Anča

přibližně 208 m

Bořík

210 m

Cilka

více než 210 m

David



2. Který ze sourozenců zdolal během své trasy **největší** převýšení?

Jméno

Slovníček

převýšení = rozdíl mezi nejnižší a nejvyšší dosaženou nadmořskou výškou.



3. Který z nich zdolal během své trasy **nejmenší** převýšení?

Jméno

Návodný a kontrolní úkol č. 2

Odhadněte hodnotu převýšení u Anči a Boříka a tyto hodnoty porovnejte.

Vyberte údaj z nabídky a doplňte věty:

Anča vystoupala nad n.m. 200 m více než m. **Bořík** klesl pod n. m.

200 m **maximálně** o m a vystoupal nad n.m. 200 m **o necelých** m.

1 m

1,3 m

2,5 m

5 m

7,5 m



4. Seřad'te následující místa a objekty od nejvýše k nejnižše položeným:

bydliště Ančiny kamarádky

tenisové kurty

koupaliště

hospoda

(Bořík)

(Cilka)

(David)

Stačí doplnit pouze jména.

Ohodno'te úlohu (vybranou hodnotu na stupnici zakroužkujte):

úloha mě bavila	☺☺	☺	☹	☹☹	úloha mě nebavila
úloha byla jednoduchá	★	★	★	★	úloha byla těžká

Návodný úkol č. 1 a) jsem při řešení úlohy nepotřeboval/a.

b) mi pomohl při řešení úlohy.

c) byl málo podrobný.

d) *jiné:*

Návodný úkol č. 2 a) jsem při řešení úlohy nepotřeboval/a.

b) mi pomohl při řešení úlohy.

c) byl málo podrobný.

d) *jiné:*

Při řešení úlohy mi došlo, že _____